

微分の応用《基本演習》 (NO.1) 解答 1枚目

1. 次の問いに答えよ.

- (1) $\lim_{x \rightarrow +0} x \log x$ を求めよ.
- (2) 関数 $y = x \log x$ の増減・極値を調べ、グラフの概形を描け.
- (3) 関数 $y = x \log x$ ($0 < x < e$) の最大値と最小値を求めよ.

(解)

$$\begin{aligned} (1) \lim_{x \rightarrow +0} x \log x &= \lim_{x \rightarrow +0} \frac{\log x}{x^{-1}} = \lim_{x \rightarrow +0} \frac{\frac{1}{x}}{-x^{-2}} \\ &= \lim_{x \rightarrow +0} \frac{x}{-1} = \lim_{x \rightarrow +0} (-x) = 0 \quad \text{〃} \end{aligned}$$

(2) 定義域は $x > 0$

$$y' = (x)' \cdot \log x + x \cdot (\log x)' = \log x + 1$$

$y' = 0$ とおくと,

$$\log x = -1 \quad x = e^{-1} = \frac{1}{e}$$

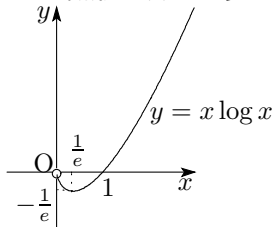
$$(y)_{x=\frac{1}{e}} = \frac{1}{e} \log e^{-1} = -\frac{1}{e}$$

増減表は次のようになる.

x	0	...	$\frac{1}{e}$...
y'	/	-	0	+
y	/	\	$-\frac{1}{e}$	/

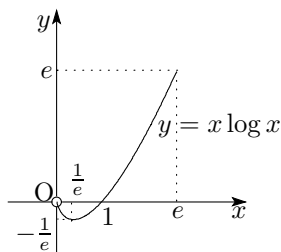
極小値は $-\frac{1}{e}$ ($x = \frac{1}{e}$ のとき) 〃

グラフの概形は次のようになる.



(3) 領域 $0 < x < e$ における増減表は

x	0	...	$\frac{1}{e}$...	e
y'	/	-	0	+	
y	/	\	$-\frac{1}{e}$	/	e



最大値は e ($x = e$ のとき) 〃

最小値は $-\frac{1}{e}$ ($x = \frac{1}{e}$ のとき) 〃

2. 関数 $f(x) = \frac{\sqrt{x+1}-1}{x}$ について、次の問いに答えよ.

(1) 極限值 $\lim_{x \rightarrow 0} f(x)$ を求めよ.

(2) (1) の極限値を $f(x)$ の $x = 0$ における値と定めるとき、微分係数 $f'(0)$ を求めよ.

(解)

$$\begin{aligned} (1) \lim_{x \rightarrow 0} f(x) &= \lim_{x \rightarrow 0} \frac{\sqrt{x+1}-1}{x} \\ &= \lim_{x \rightarrow 0} \frac{(x+1)-1}{x(\sqrt{x+1}+1)} \\ &= \lim_{x \rightarrow 0} \frac{1}{\sqrt{x+1}+1} = \frac{1}{2} \quad \text{〃} \end{aligned}$$

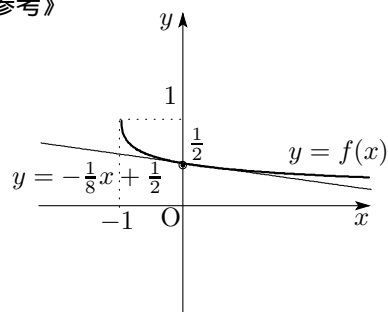
$$(2) f(x) = \begin{cases} \frac{\sqrt{x+1}-1}{x} & (x \neq 0) \\ \frac{1}{2} & (x = 0) \end{cases}$$

$$\lim_{x \rightarrow 0} f(x) = f(0)$$

よって、 $f(x)$ は $x = 0$ で連続である.

$$\begin{aligned} f'(0) &= \lim_{x \rightarrow 0} \frac{f(x) - f(0)}{x - 0} = \lim_{x \rightarrow 0} \frac{\frac{\sqrt{x+1}-1}{x} - \frac{1}{2}}{x} \\ &= \lim_{x \rightarrow 0} \frac{2\sqrt{x+1} - (2+x)}{2x^2} \\ &= \lim_{x \rightarrow 0} \frac{4(x+1) - (x+2)^2}{2x^2\{2\sqrt{x+1} + (x+2)\}} \\ &= \lim_{x \rightarrow 0} \frac{-x^2}{2x^2(2\sqrt{x+1} + x+2)} \\ &= \lim_{x \rightarrow 0} \frac{-1}{2(2\sqrt{x+1} + x+2)} = -\frac{1}{8} \quad \text{〃} \end{aligned}$$

《参考》



微分の応用《基本演習》 (NO.1) 解答 2枚目

3. t を媒介変数とする x, y の関数から, $\frac{dy}{dx}, \frac{d^2y}{dx^2}$ を t の式で表せ.

$$\begin{cases} x = \sin t + 1 \\ y = \cos 2t \end{cases}$$

(解)

$$\frac{dy}{dx} = \frac{\frac{dy}{dt}}{\frac{dx}{dt}} = \frac{-2 \sin 2t}{\cos t} = \frac{-4 \sin t \cos t}{\cos t} = -4 \sin t \quad "$$

$$\frac{d^2y}{dx^2} = \frac{d}{dx} \left(\frac{dy}{dx} \right) = \frac{\frac{d}{dt} \left(\frac{dy}{dx} \right)}{\frac{dx}{dt}} = \frac{-4 \cos t}{\cos t} = -4 \quad "$$

(別解)

$$y = \cos 2t = 1 - 2 \sin^2 t = 1 - 2(x-1)^2 = -2x^2 + 4x - 1$$

$$\frac{dy}{dx} = -4x + 4 = -4(\sin t + 1) + 4 = -4 \sin t \quad "$$

$$\frac{d^2y}{dx^2} = \frac{d}{dx}(-4x + 4) = -4 \quad "$$

4. 関数 $y = \frac{x^3}{1-x^2}$ のグラフの概形をかけ.

(解) $y = f(x) = \frac{x^3}{1-x^2}$ とおくと,

$f(-x) = -f(x)$ より, この関数は奇関数だから,

グラフは原点に関して対称になる.

また, 分母 $1-x^2 \neq 0$ より, 定義域は $x \neq \pm 1$

$$y' = \frac{3x^2(1-x^2) - x^3(-2x)}{(1-x^2)^2} = \frac{x^2(3-x^2)}{(1-x^2)^2}$$

$$y'' = \frac{(6x-4x^3) \cdot (1-x^2)^2 - x^2(3-x^2) \cdot 2(1-x^2) \cdot (-2x)}{(1-x^2)^4}$$

$$= \frac{(6x-4x^3)(1-x^2) + 4x^3(3-x^2)}{(1-x^2)^3} = \frac{2x(x^2+3)}{(1-x^2)^3}$$

$y' = 0$ となるのは $x = 0$ と $x = \pm\sqrt{3}$,

$x = 0$ のとき $y = 0$

$$x = -\sqrt{3} \text{ のとき } y = \frac{(-\sqrt{3})^3}{1-(-\sqrt{3})^2} = \frac{-3\sqrt{3}}{1-3} = \frac{3\sqrt{3}}{2}$$

$$x = \sqrt{3} \text{ のとき } y = \frac{(\sqrt{3})^3}{1-(\sqrt{3})^2} = \frac{3\sqrt{3}}{1-3} = -\frac{3\sqrt{3}}{2}$$

$y'' = 0$ となるのは $x = 0$ よって, 変曲点は $(0, 0)$

よって増減表は次のようになる.

x		$-\sqrt{3}$...	-1	...	0	...	1	...	$\sqrt{3}$...
y'	-	0	+	/	+	0	+	/	+	0	-
y''	+		+	/	-	0	+	/	-		-
y	↘	$\frac{3\sqrt{3}}{2}$	↗	/	↘	0	↗	/	↘	$\frac{3\sqrt{3}}{2}$	↘

$$\lim_{x \rightarrow 1+0} y = \lim_{x \rightarrow 1+0} \frac{x^3}{1-x^2} = -\infty$$

$$\lim_{x \rightarrow 1-0} y = \lim_{x \rightarrow 1-0} \frac{x^3}{1-x^2} = \infty$$

よって, $x = 1$ は漸近線である.

$$\lim_{x \rightarrow -1+0} y = \lim_{x \rightarrow -1+0} \frac{x^3}{1-x^2} = -\infty$$

$$\lim_{x \rightarrow -1-0} y = \lim_{x \rightarrow -1-0} \frac{x^3}{1-x^2} = \infty$$

よって, $x = -1$ も漸近線である.

次に $y = ax + b$ の形の漸近線があるか調べると,

$$a = \lim_{x \rightarrow \pm\infty} \frac{f(x)}{x} = \lim_{x \rightarrow \pm\infty} \frac{x^3}{x(1-x^2)} = \lim_{x \rightarrow \pm\infty} \frac{x^2}{1-x^2} = \lim_{x \rightarrow \pm\infty} \frac{1}{\frac{1}{x^2} - 1} = -1$$

$$b = \lim_{x \rightarrow \pm\infty} \{f(x) - (-x)\} = \lim_{x \rightarrow \pm\infty} \left(\frac{x^3}{1-x^2} + x \right) = \lim_{x \rightarrow \pm\infty} \frac{x}{\frac{1}{x^2} - 1} = 0$$

よって, $y = -x$ は漸近線である.

以上より, グラフは次のようになる.

